


КНИЖКА С ПЪЗЕЛИ ЗА РАЗВИТИЕ НА УМА РАЗМЪРДАЙ СИ МОЗЪКА





ВЪВЕДЕНИЕ

**С ПОМОЩТА НА ТАЗИ КНИЖКА С ПЪЗЕЛИ
УМЪТ ВИ ЗА НУЛА ВРЕМЕ ЩЕ ВЛЕЗЕ ВЪВ
ВЪРХОВНА ФОРМА.**


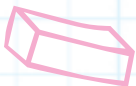
Готови ли сте за предизвикателството? От първата до последната страница ще откриете богато разнообразие от пъзели и задачи, които ще подобрят начина ви на мислене и умствените ви способности!

Книжката е разделена на няколко нива. Трябва да започнете с най-ниското, защото всяко следващо ниво става все по-трудно!

Всичко, което ти трябва, за да ги направиш, е твоят ум и молив. Повечето пъзели се решават наум, но има и такива, за които ще се наложи да си записваш или да копираш пъзела, ако споделяш книгата с приятели.

Отговорите в края ще ти помогнат да свериш своите или при затруднение да се подсетиш за решението.

Желателно е да не поглеждаш често?



**ХАЙДЕ ДА
ЗАПОЧВАМЕ!**





КАКВО Е МЕНСА

Менса е международна организация на хора с висок коефициент на интелигентност. В нея членуват над 100 000 души от повече от 40 страни по света. Целите на организацията са:

- да открива и насърчава интелигентните хора в полза на цялото човечество;
- да стимулира изследванията на естеството, характерните черти и възможните приложения на човешката интелигентност;
- да осигурява благоприятна интелектуална и социална среда за своите членове.

Всеки, чийто коефициент на интелигентност попада сред двата най-високи процента спрямо цялото население, е подходящ да стане член на Менса. Дали и вие не сте един от тях?

Членството в организацията предлага немалко предимства:

- свързване в мрежа за участие в прояви с национално и международно значение;
- създаване на групи по интереси, които дават многобройни възможности за упражняване на най-различни видове хоби - от изкуство до зоология;
- месечно списание за членовете, както и регионални бюлетини за тях;
- регионални срещи с разнообразен дневен ред - от игрови предизвикателства до хапване и пийване;
- национални и международни срещи и конференции през уикенда;
- достъп до световната виртуална мрежа за пътешественици и домакини SIGHT.

За повече информация:

Телефон: +359 (0)888 869 354

www.mensa.bg

membership@mensa.bg

адрес за кореспонденция:

София 1836, жк Левски Г, бл. 31, вх. А, ап. 32



НИВО А: СУПЕРУМ




ПЪЗЕЛ 1

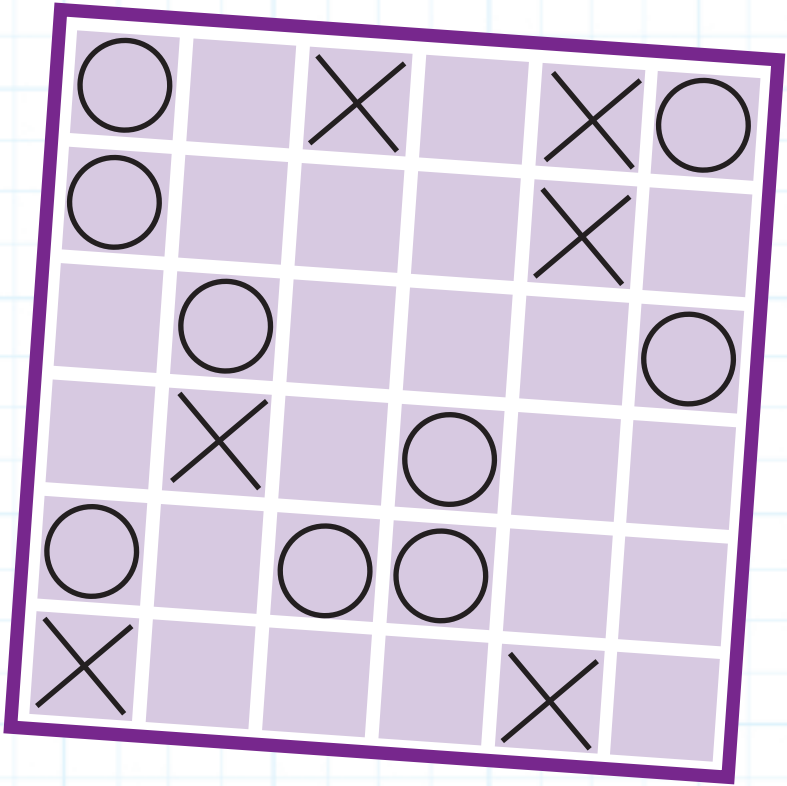
Подредете числата и математическите символи така, че да се получи даденото число. Например 6 се получава от $1 \times 4 + 2$.

А



Б





ПЪЗЕЛ 2

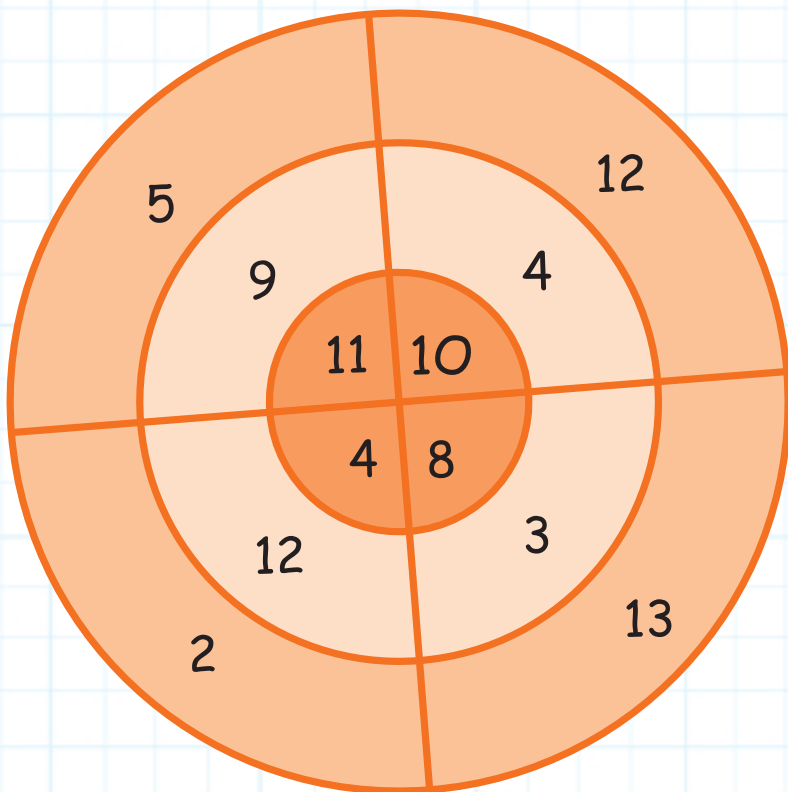
Поставете X или O в празните квадратчета на мрежата, без да правите хоризонтални, вертикални или диагонални линии от четири или повече X или O.

ПЪЗЕЛ 3

Като изберете по едно число от всеки кръг, можете ли да получите сборовете отдолу?

Например можете да получите 36, като изберете 11 от най-вътрешния кръг, 12 от средния и 13 от външния.

14 23 30





ПЪЗЕЛ 4

Кое число следва в редицата?

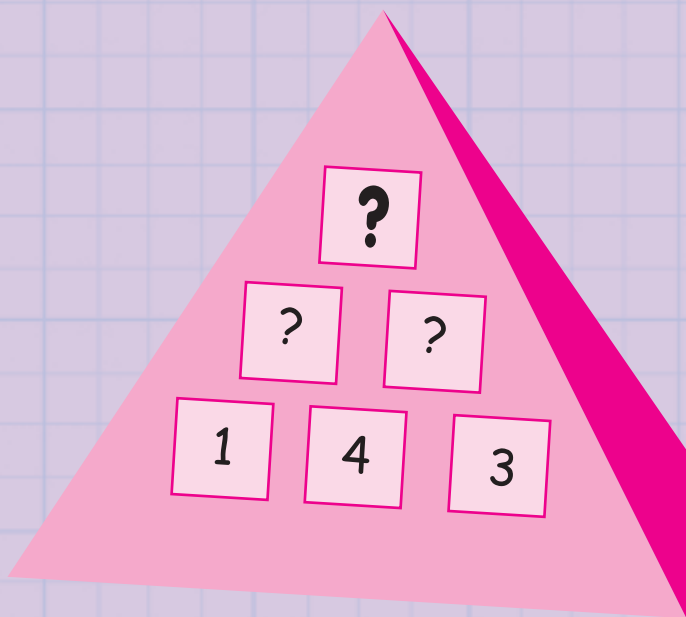
3	5	8	12	17	23	?
---	---	---	----	----	----	---





ПЪЗЕЛ 5

Във всяко квадратче от пирамидата има число, равно на сбора на числата в квадратчетата, намиращи се под нея. Можете ли да откриете числото, което трябва да замени въпросителния знак на върха на пирамидата?



С Р Б В
У А О П
Т Н Ш Щ
Ф Д Ж И Г К
Ч Ъ З Л Ъ Й
Ц Я Е Ю М






ПЪЗЕЛ 6

Всяка буква от азбуката е показана на картината освен една. Коя буква липсва?

ПЪЗЕЛ 7

Погледнете буквите за 30 секунди, след което ги закрийте. После на отделен лист напишете всичките, които помните. Накрая ги сравнете и вижте колко сте успели да си спомните.





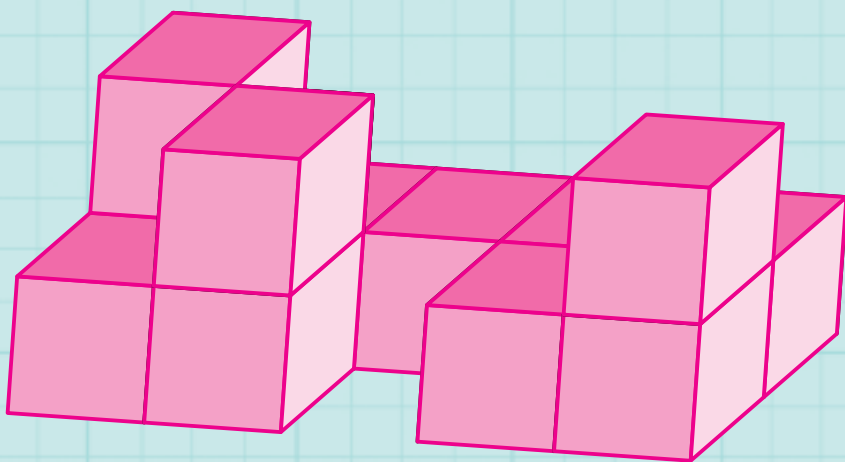
ПЪЗЕЛ 8

Кой от вариантите А, Б, В или Г може да замени празната част, за да завърши модела.



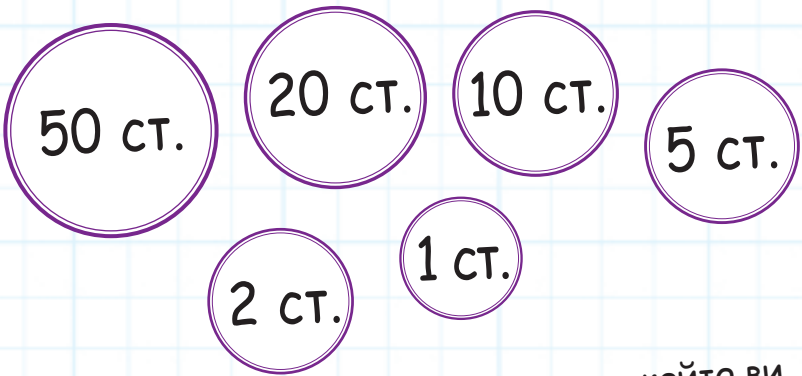
ПЪЗЕЛ 9

Колко куба можете да преброите на картинката? Не забравяйте скритите кубчета, които държат тези над тях!



ПЪЗЕЛ 10

В Пъзеландия има монети с шест различни стойности: 1 ст., 2 ст., 5 ст., 10 ст., 20 ст., 50 ст.



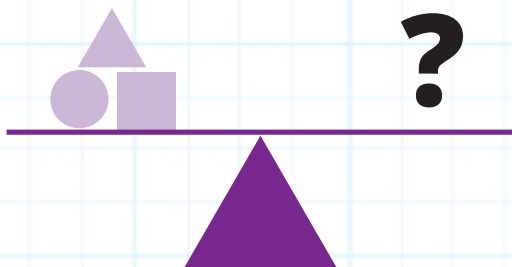


Колко е най-малкият брой монети, който ви трябва, за да купите следните неща, без да ви връщат ресто?

А. Линия, която струва 8 ст.?

Б. Несесер на стойност 37 ст.?

ПЪЗЕЛ 11

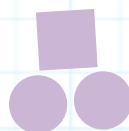
Кой от вариантите А, Б или В може да замени въпросителния знак, за да балансира най-долната везна?




A



Б



В



ПЪЗЕЛ 12

Колко правоъгълника и квадрата с всякакви размери откривате на картинката? Някои са трудни за откриване!

