

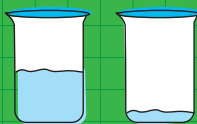


6+

ЛОГИЧЕСКИ ЗАДАЧКИ И ИГРИ







Реши задачите. Напиши изчисленията на пунктира.

1 Лили и Таня искат да направят вкусна торта, но им трябват 8 яйца. Лили има 3, а Таня 2, колко още яйца трябва да купят?


2 Симона има 3 златни рибки. За рождения си ден получава още 6. Колко рибки има общо?

3 Лукас и Мари обичат да скачат на въже. Заедно искат да направят общо 20 скока. Лукас вече е направил 9. Колко пъти трябва да скочи Мари?





Свържи всяка палатка със сянката ѝ.





Реши sudoku пъзела. Всяка рисунка трябва да се появи само по веднъж на ред, колонка и поле, съставено от 4 квадратчета.

Можеш да избираш между:

