



# РЕДИЦИ








**1. РАЗГЛЕДАЙ** рисунките и **ПРОДЪЛЖИ** редицата.



**2. ВИЖ** нарисваните плодчета и **ПОПЪЛНИ** таблицата, като нарисуваш по едно плодче във всяко празно поле, но не повтаряй рисунките в ред или в колона!





**3. РАЗГЛЕДАЙ** реда, който следват числата и буквите и го **ПРОДЪЛЖИ**.

1	2	A	1	2	E	1		
		O					2	

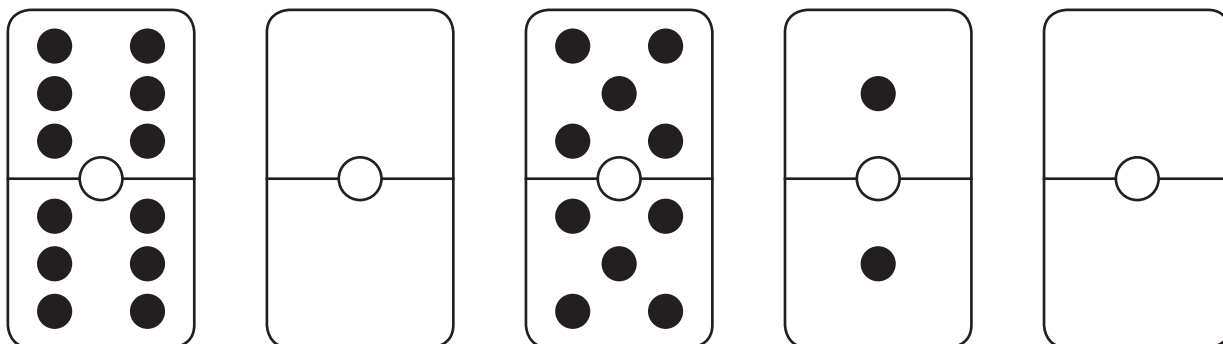
**4.** А сега направи същото и с тази редица.

Поне- делник	1111 1111 1111	1111 1111 111	Вторник	1111 1111 11			1111 1111	
Четвър- тък		1111 1					Вторник	1





**5. ОТКРИЙ** правилото в редицата и нарисуй следващата плочка от доминото, като **НАРИСУВАШ** последната фигура.



**6. ПОПЪЛНИ** редицата със следващата плочка от доминото, като **НАРИСУВАШ** последната фигура.

