

семејство

ДА СЕ ЗАПОЗНАЕМ

родословно дърво



Запознайте се с двете мечета Мечо и Медунка. Те са в 4. група в Горската детска градина. Заедно с тях и техните приятели ще учим, ще играем и ще пътуваме из Голямата гора, която е техен дом.



Здравейте.
Аз съм МЕЧО.



А аз съм
МЕДУНКА.



1. Оцвети твоите нови приятели според легендата.



А сега да ти представим и другите членове на семейството на Мечо и Медунка.

2. Огради първата буква от имената на всички мечовци.



баба
Меца



дядо
Мецан



мама
Мецана



татко
Медун




баба
Маша



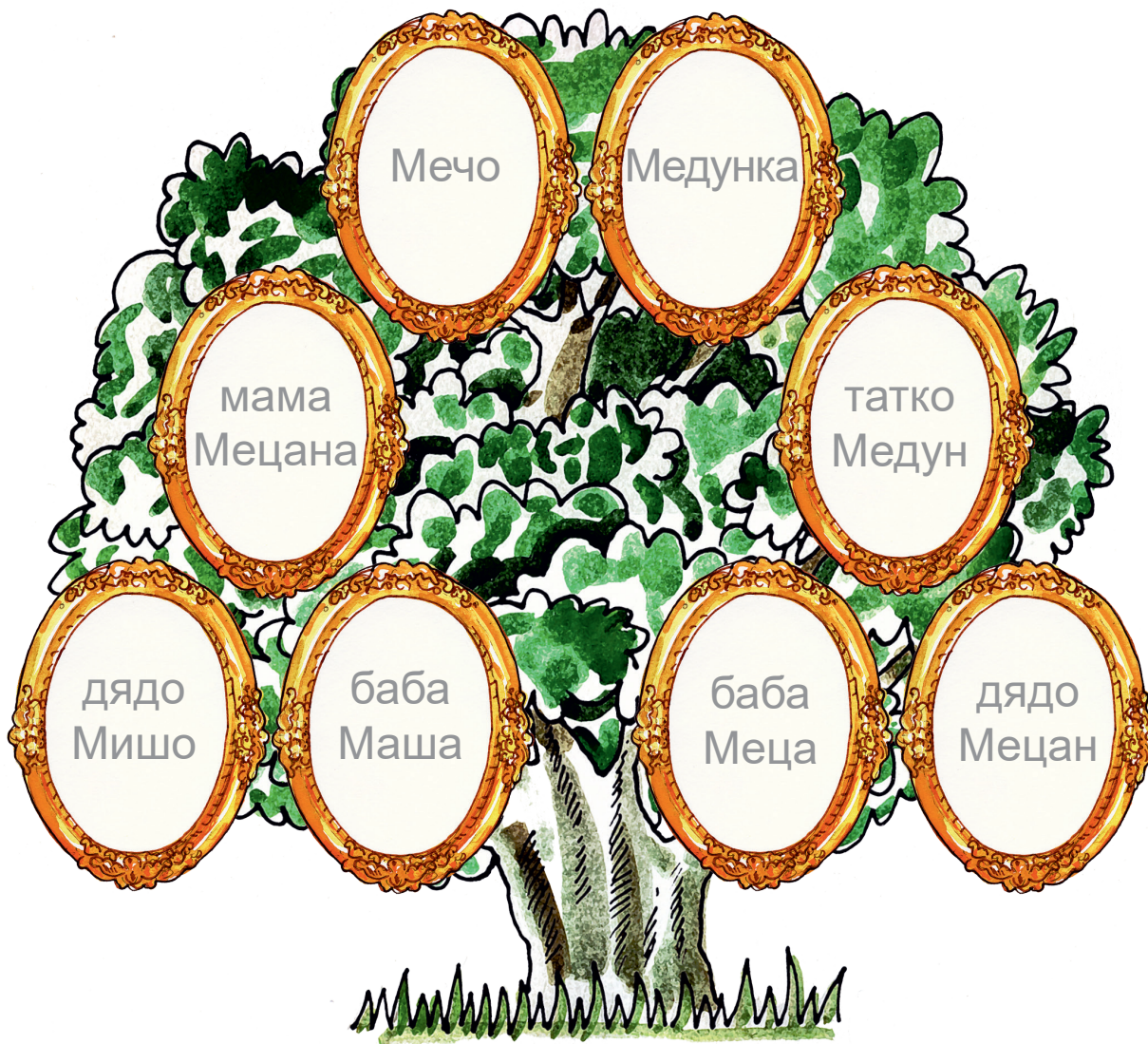
дядо
Мишо



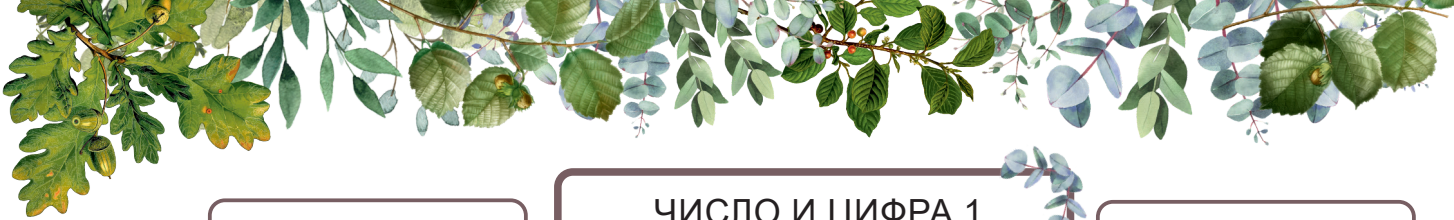
3. Открой и огради буквичката, с която започват имената на всички в семейството.



4. Нека да направим родословно дърво на семейството на Мечо и Медунка. Изрежи от приложение № 3 снимките на всички членове на семейството и ги залепи на правилните места.



5. В приложения № 1, 2 и 3 ще откриеш полянката, къщичката на Мечо и Медунка и самите мечета. Изрежи и залепи според указанията.



сравняване

ЧИСЛО И ЦИФРА 1
ЧИСЛО И ЦИФРА 2

броене



1. До къщичката на Зайо растат 1 борче и 1 круша. Открой тези дървета и ги оцвети.



2. Довърши по образца:

| | | | | | | | | | | | | | | |
|---|--|---|--|---|--|--|--|--|--|--|--|--|--|--|
| 1 | | 1 | | 1 | | | | | | | | | | |
|---|--|---|--|---|--|--|--|--|--|--|--|--|--|--|



3. Днес за закуска Зайо изяде 2 големи моркова и 2 малки репички. Дорисувай по пунктира. Оцвети само толкова зеленчуци, колкото е изял Зайо.



4. Довърши по образца:

| | | | | | | | | | | | | | | |
|---|--|---|--|---|--|--|--|--|--|--|--|--|--|--|
| 2 | | 2 | | 2 | | | | | | | | | | |
|---|--|---|--|---|--|--|--|--|--|--|--|--|--|--|



5. Пред къщичката на Ежко татко Еж е направил 1 кръгла маса и 2 пейки. Открий правилните предмети и ги огради.

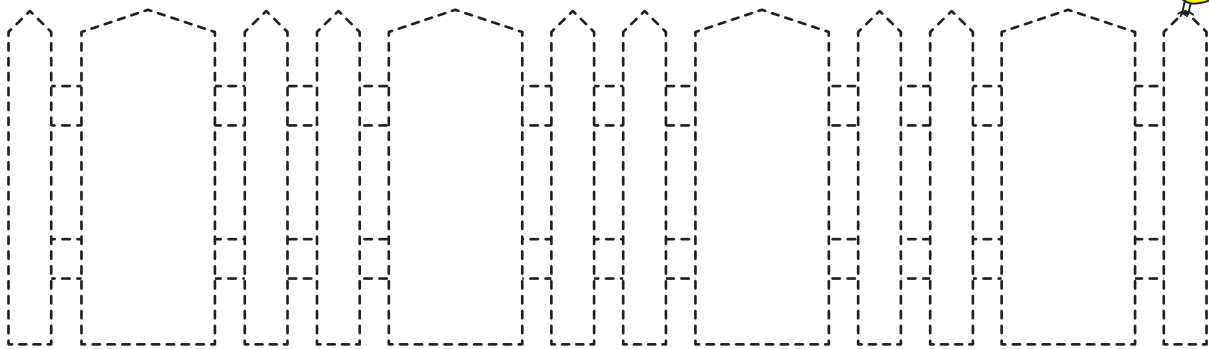


6. Довърши оградата на къщичката по пунктира.

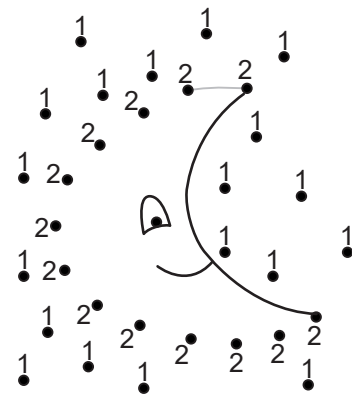
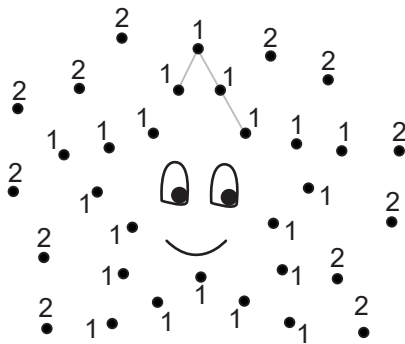


7. Оцвети: широките дъски **в кафяво**, а тесните – **в жълто**.

8. Нарисувай под оградата  , 2  и 1  .



9. Свържи само единиците (1) в първата картинка и само двойките (2) във втората картинка. Какво се получи?





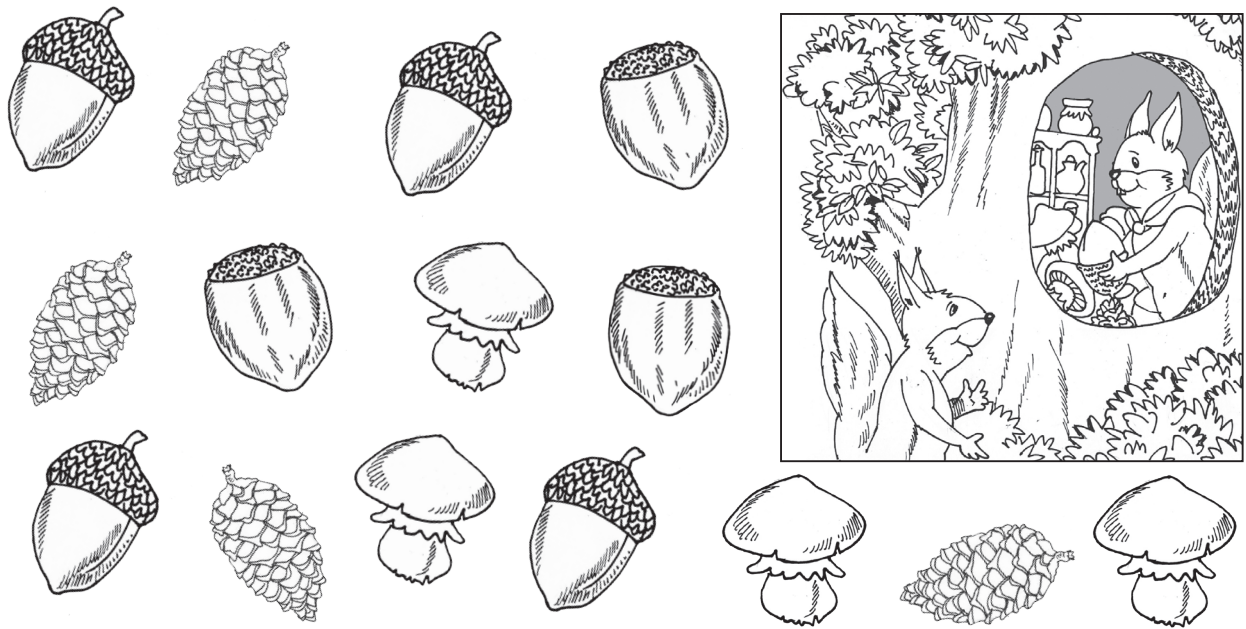
броене
сравняване

ЧИСЛО И ЦИФРА 3

наблюдателност



1. Рунтавелка трябва да събере храна за студената зима. Помогни ѝ да събере 3 лешника, 3 жълъда, 3 гъбки и 3 шишарки. Оцвети така:



2. Коя от сенките е на Рунтавелка? Огради.



3. Повтори и довърши.

| | | | | | | | | | | | | |
|---|--|---|--|---|--|--|--|--|--|--|--|--|
| 3 | | 3 | | 3 | | | | | | | | |
| 3 | | 3 | | 3 | | | | | | | | |



4. Кои колко са? Преброй и свържи с правилното число.

1 2 3



>
<




>
<



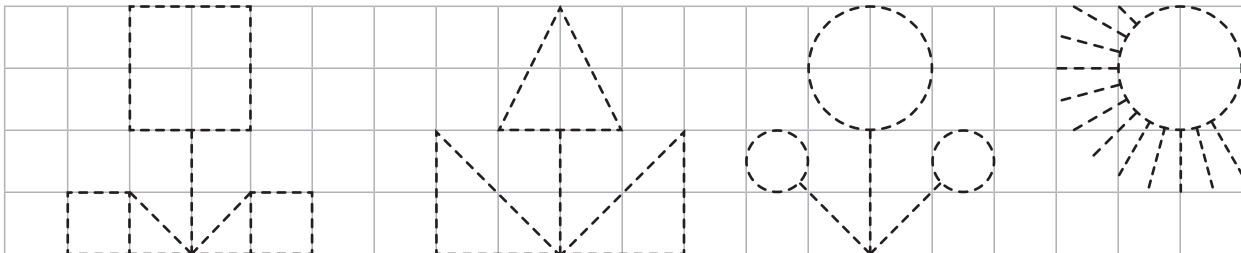
5. Кои са повече и кои по-малко? Оцвети квадратчето с верния знак.



6. Открой и оцвети 3-те зайчета, които се различават от останалите по нещо.



7. Довърши по пунктира и оцвети: ■ ▲ ●



8. Повтори и довърши.

| | | | | | | | | | |
|---|---|---|---|--|--|--|--|--|--|
| 1 | 2 | 3 | 1 | | | | | | |
|---|---|---|---|--|--|--|--|--|--|